

Programme du 19 MARS

Dictée quotidienne 2 :

Ils ont pu repartir car ils s'étaient réchauffés et ils ont repris des forces, tous, sauf le chien. Quand l'homme est arrivé, il a seulement trouvé le chien qui tremblait encore de froid. Alors, il l'a emmené avec lui. Depuis ce jour, lui et le chasseur sont inséparables.

Conjugaison :

Sur ton cahier du jour, écris la date en français et en allemand, puis le titre :
Contrôle du jour.

Conjugué ces verbes au passé composé.

Je (pouvoir)	ils (aller)
Tu (faire)	Le président de la république (aller)
Il (dire)	La voisine d'en face (pouvoir)
Nous (aller)	Les magasins (faire)
Vous (pouvoir)	Eva et sa sœur (dire)

Au cahier d'essai :

CM1 : Manuel de français exercices p .179 n° 1, 2 et 5

CM2 : Manuel de français p.112 n°9, 10 et 11

Lecture : Lis à voix haute à un adulte le chapitre suivant de Pollux. Pour les enfants qui ont fini le livre, ils peuvent prendre un autre livre et faire de même. (Au moins quelques pages à voix haute)


Mathématiques : géométrie

Découpe et colle cette leçon en partie mathématique. Lis là, puis surligne les mots importants à retenir : 4 côtés puis les propriétés du carré, du rectangle et d losange.

GE Les quadrilatères :

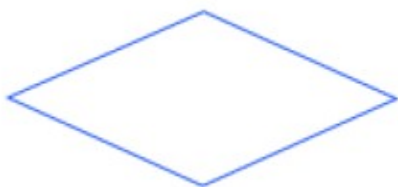
Le **quadrilatère** est un polygone qui a 4 côtés.

◆ le carré

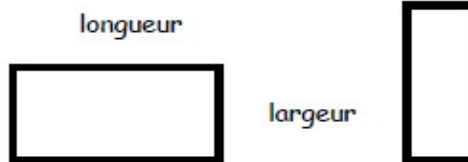


- × Il a 4 angles droits.
- × Ses 4 côtés ont la même longueur.
- × Les côtés opposés sont parallèles deux à deux.

▪ le losange



× le rectangle



- × Il a 4 angles droits.
- × Les côtés opposés ont la même longueur.
- × Les côtés opposés sont parallèles deux à deux.

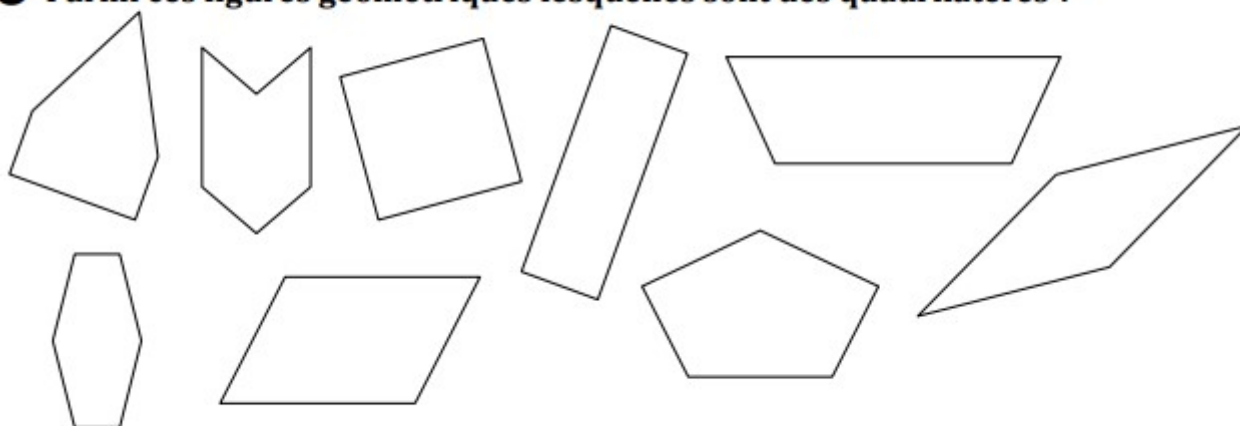
- × Ses 4 côtés ont la même longueur.
- × Les côtés opposés sont parallèles deux à deux.

❶ Qu'est-ce qu'un quadrilatère ?

.....

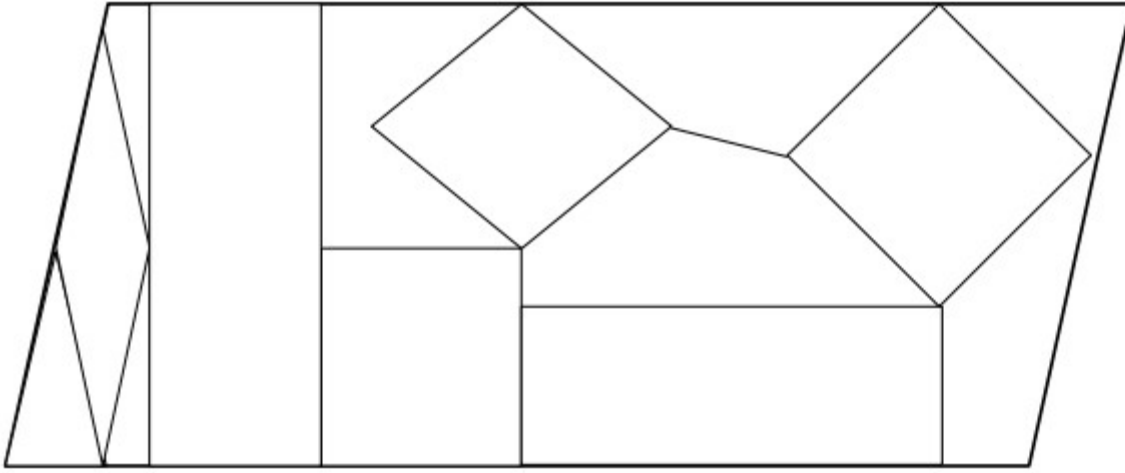
.....

❷ Parmi ces figures géométriques lesquelles sont des quadrilatères ?


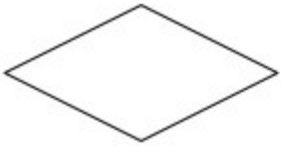


.....

❶ Colorie les carrés en bleu, les rectangles en rouge, les losanges en jaune.



❷ Écris un court texte pour faire deviner la figure que tu as choisi à ton camarade.



.....

.....

.....

Pour faire cet exercice, il te faudra obligatoirement une équerre, une règle et un compas.

Pour le rectangle et le carré, il faut mesurer les côtés et avoir 4 angles droits que tu traceras avec une équerre.

Pour le losange, il faut mesurer les côtés et utiliser le compas pour tracer 2 arcs de cercle (comme pour le travail sur les triangles). Ouvre le compas de la même longueur que les côtés déjà tracés, puis relie au point d'intersection.

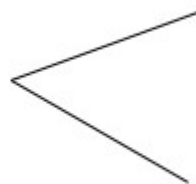
❸ Termine le rectangle.



❹ Termine le carré.



❺ Termine le losange.



Lecture EMC :

Lis les documents sur les élections municipales et essaye de répondre aux questions sur la feuille. Je t'enverrai le corrigé demain.