



Calcul Réfléchi

Le complément à 100

Total : / 20

Complète les calculs suivants en moins de 8 minutes

A. $80 + \dots = 100$

H. $25 + \dots = 100$

O. $55 + \dots = 100$

B. $50 + \dots = 100$

I. $95 + \dots = 100$

P. $46 + \dots = 100$

C. $70 + \dots = 100$

J. $52 + \dots = 100$

Q. $30 + \dots = 100$

D. $40 + \dots = 100$

K. $27 + \dots = 100$

R. $64 + \dots = 100$

E. $90 + \dots = 100$

L. $78 + \dots = 100$

S. $92 + \dots = 100$


F. $65 + \dots = 100$

M. $89 + \dots = 100$

T. $41 + \dots = 100$



G. $85 + \dots = 100$



N. $13 + \dots = 100$





BONUS (travail non obligatoire)

Petits coloriages pour travailler les compléments à 100 : colorie de la même couleur les deux nombres qui s'associent pour faire 100. Il n'en restera qu'un !

	100	 E7
21	42	58
64	36	26
25	79	74

	100	 E8
86	73	51
49	68	14
32	27	21

	100	 E9
43	72	67
28	54	57
33	26	46