


Prénom :

Date :




LES FRACTIONS DÉCIMALES

Consigne : Indique la fraction décimale ou colorie la représentation qui correspond.




Fraction : —




Fraction : —



Fraction : —




Fraction : —



Fraction : $\frac{15}{100}$



Fraction : $\frac{3}{10}$



Fraction : $\frac{81}{100}$



Fraction : $\frac{9}{10}$

Consigne : Ecris ces fractions en chiffres.

- | | |
|--------------------------------|-------------------------------|
| a) quarante-deux centièmes : | e) huit dixièmes : |
| b) Soixante-quinze centièmes : | f) cent-cinquante millièmes : |
| c) Six millièmes : | g) trente-quatre dixièmes : |
| d) Cent-douze centièmes : | h) cinquante centièmes : |

Consigne : Ecris ces fractions en lettres.

- a) $\frac{38}{100}$: _____
- b) $\frac{45}{1000}$: _____
- c) $\frac{2}{10}$: _____
- d) $\frac{38}{100}$: _____