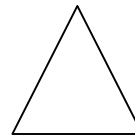


Prénom :

Date :



LA MONNAIE (2)



Rappel :

Les pièces :

Les centimes :



Les euros :









Les billets :



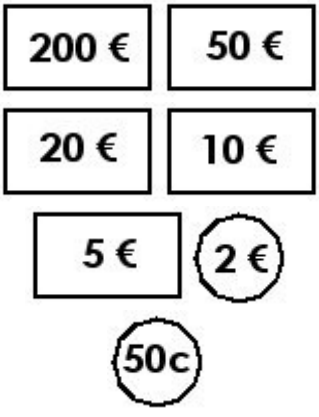
1. Que représentent les sommes suivantes :

**Regroupe les centimes ensemble.
100 centimes font 1 €.**

A	B	C
 <p>..... euros et cts</p>	 <p>..... euros et cts</p>	 <p>..... euros et cts</p>
D	E	F
 <p>..... euros et cts</p>	 <p>..... euros et cts</p>	 <p>..... euros et cts</p>

2. Dessine les pièces et les billets afin de réaliser les sommes suivantes

Important : utilise le moins de billet et de pièce possible

	G	H
 <p>287 € et 50 cts</p>	<p>45 € et 50 cts</p>	<p>36 € et 85 cts</p>
I	J	K
<p>218,60 €</p>	<p>95,90 €</p>	<p>75,75 €</p>

Question bonus : Pierrot a cassé sa tirelire. Voici ce qu'il a trouvé. Aide-le à compter son trésor !...



Pierrot a euros et centimes dans sa tirelire.