


# Corrigé

86

## Addition de 2 nombres à 2 chiffres (2)

### Calcul mental

- Dictée de nombres ( $60 \leq n \leq 79$ )
- Additions mentales ( $7+n$ ,  $8+n$ ,  $9+n$ )




vingt + trente = 50

L'écureuil renonce à compter.



Picbille calcule.



C'est 2 groupes de dix plus 3 groupes de dix. C'est...

Imagine les groupes de dix et écris la réponse en chiffres.

vingt + vingt = 40

quarante + vingt = 60

dix + quarante = 50

trente + dix = 40

vingt + dix = 30

quarante + trente = 70

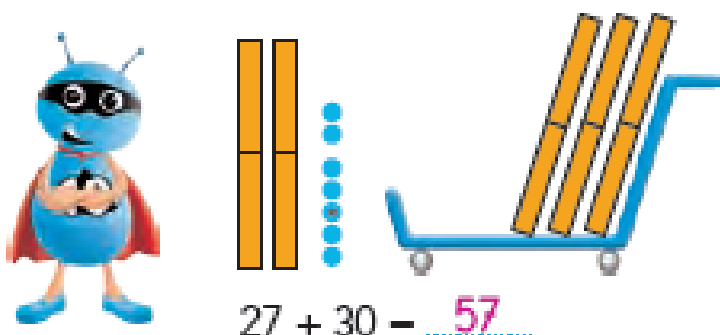
soixante + dix = 70

cinquante + vingt = 70

trente + trente = 60

A

Picbille calcule  
vingt-sept + trente.



$27 + 30 =$  57

Imagine les dizaines et les unités.

$14 + 20 =$  34

$32 + 10 =$  42

$28 + 40 =$  68

$13 + 30 =$  43

$25 + 30 =$  55

$39 + 40 =$  79

B

Écris la table  
des moitiés.

$\begin{array}{c} 2 \\ \diagdown \quad \diagup \\ 1 + 1 \end{array}$

$\begin{array}{c} 4 \\ \diagdown \quad \diagup \\ 2 + 2 \end{array}$

$\begin{array}{c} 6 \\ \diagdown \quad \diagup \\ 3 + 3 \end{array}$

$\begin{array}{c} 8 \\ \diagdown \quad \diagup \\ 4 + 4 \end{array}$

$\begin{array}{c} 10 \\ \diagdown \quad \diagup \\ 5 + 5 \end{array}$

C