



Corrigé

87

Problèmes pour apprendre à chercher

Calcul mental

- Compteur en remplissant une planche « vide » ($n \leq 79$)
- Dictée de nombres ($60 \leq n \leq 79$)



Prends l'ensemble des pièces et des billets de ton matériel.

Dessine avec le moins de billets et le moins de pièces possible.



20€

20€

5€

2€

1€

20€


20€

20€

10€

2€

2€






74€

A

Madame Bata a 15 Images et elle veut les partager entre Louis et Amina.

Dessine la part de chaque enfant. Combien d'images chacun aura-t-il ?



Chacun aura 7 images

B

Trouve 3 solutions.



Je veux 11 jetons.



$$8 + 3$$

$$6 + 3 + 2$$

$$8 + 2 + 1$$



Je veux 13 jetons.




$$9 + 4$$

$$8 + 4 + 1$$

$$9 + 1 + 3$$

Colorie 69 cases.



C

D