

## **Programme du Jeudi 02 avril**

Dictée quotidienne 3 :

Ainsi, il nous a fallu trois bonnes heures pour avancer de quelques mètres.

Heureusement, nous avons été secourus par un bateau brise-glace venu nous chercher.

Conjugaison :

Corrige ton travail puis fais ton évaluation. Les enfants qui n'ont pas d'imprimante, noteront leur travail sur une feuille en indiquant le titre, le numéro des questions et juste les réponses.

CM2 Plus que parfait

Recopie uniquement les verbes conjugués au plus que parfait. Ecris à côté leur infinitif.

Tu avais pris – il a mangé – nous étions sortis – vous deviez – elles ont déménagé – j'étais parti – je revenais – ils avaient répondu – vous aviez oublié.

Réécris ces phrases au plus-que-parfait et réponds à la question finale.

- Tu as rangé ton armoire.
- Elle est partie de bonne heure.
- Nous avons déjeuné sur le bord du canal.
- Vous êtes allés visiter le Luxembourg.
- Alice et Sarah sont rentrées toute seules.

Quand tu passes du passé composé au plus-que-parfait, quelle est la seule chose à changer dans la phrase ?

Recopie ces phrases en conjuguant les verbes entre parenthèses au plus-que-parfait.

J' (partir) en essayant de ne pas faire de bruit. – Dès le premier regard, ils (se reconnaître). Mon frère était furieux car tu (prendre) son vélo sans lui demander l'autorisation. – Nous (répondre) correctement à toutes les questions. – Jacques (descendre) dans un petit hôtel sur la Côte d'Azur. – Vous (conquérir) la coupe en gagnant la finale.

## Géométrie

Il faut bien connaître les propriétés des quadrilatères. Les propriétés c'est un peu la carte d'identité de chaque figure.

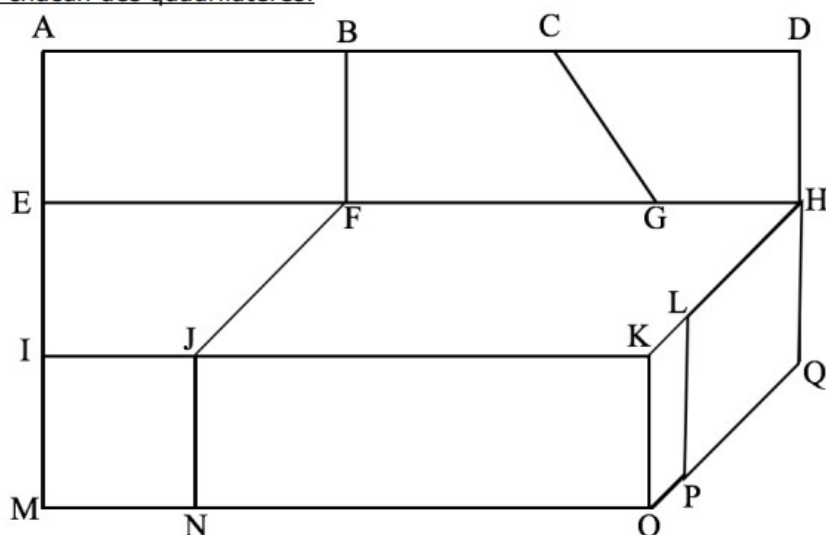
**Complète ce texte avec les mots suivants :** *quatre-égaux- diagonales- quadrilatère - parallèles*

Un rectangle est un .....particulier qui a ..... angles droits et des côtés opposés .....et .....deux à deux. Ses ..... sont de même longueur et se coupent en leur milieu.

**Avec les mots :** *quatre-égaux- diagonales- quadrilatère – milieu-quatre –perpendiculaires -*

Un carré est .....qui a .....angles droits et ..... côtés ..... Ses .....sont de même longueur, .....et se coupent en leur..... .

Nomme chacun des quadrilatères.



ABEF est un .....

BCGF est un .....

CDHG est un .....

JFHK est un .....

IJNM est un .....

JKON est un .....

LHQP est un .....

KLPO est un .....

Effectue les tracés suivants.

Trace un carré ABCD de 4 cm de côté.



Trace un rectangle EFGH de longueur 4 cm et de largeur 3 cm.



Trace un losange, en utilisant ses propriétés : les diagonales du losange sont perpendiculaires et se coupent en leur milieu.

Commence par tracer un segment AC de 6 cm. Cherche son milieu O puis trace un segment BD de 8cm **perpendiculaire** à AC et passant par le milieu O.

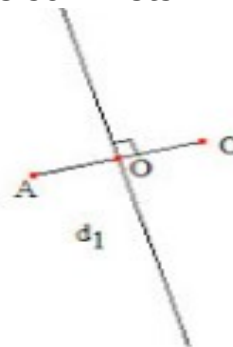
**Tu dois utiliser une équerre !** Relie enfin les quatre sommets.



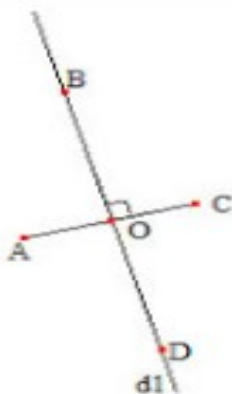
petite diagonale AC



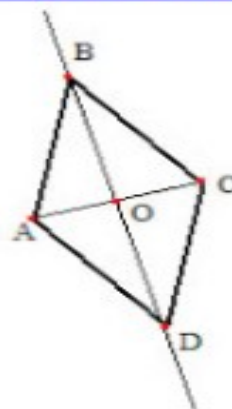
milieu O de AC



droite  $d_1$  perpendiculaire au segment AC passant par O



sur  $d_1$ , point B tel que longueur OB = longueur OC  
sur  $d_1$ , point D tel que longueur OD = longueur OC



segments AB, BC, CD, DA

## Lecture :

Nous quittons cette semaine le Maroc pour nous rendre au Sénégal. Pays d'Afrique noire.

Tu peux regarder cette petite animation sur Internet pour découvrir ce pays.

[http://imagesetlangages.fr/animations\\_pedagogiques/ESP\\_TEMPS\\_MichelS/Espaces\\_lointains/Dakar.pdf](http://imagesetlangages.fr/animations_pedagogiques/ESP_TEMPS_MichelS/Espaces_lointains/Dakar.pdf)

En regardant l'animation, essaye de répondre à ces questions :

1. Quels sont les pays frontaliers (voisins) du Sénégal ?
2. Quelle est la capitale du Sénégal ?
3. Quel océan borde le Sénégal ?
4. Quel autre pays se trouve en plein milieu du Sénégal ?
5. Donne le nom de trois spécialités du Sénégal.
6. Cite 2 moyens de locomotion que nous n'avons pas l'habitude d'utiliser en France.
7. Dans quel quartier vit Amina ?
8. De quoi manquent beaucoup de maisons dans la banlieue de Dakar ?
9. Quel type de bateau utilisent les pêcheurs au Sénégal ?
10. Cite 3 sports pratiqués au Sénégal.
11. Regarde toutes les photos et trouve celle qui te surprend le plus.

Tu peux essayer de dessiner le drapeau du Sénégal. Pour cela, trace 3 rectangles de 5cm de largeur et 15cm de longueur, un vert foncé, un jaune et un rouge. Et dessine en son centre une étoile du même vert.



Enfin, pour finir et rien à voir.... Voici l'adresse internet d'un site où tu pourras lire en ligne des petits romans policiers et si tu le veux répondre à de courts questionnaires. Tu verras, ça a l'air sympa !

<https://fr.calameo.com/books/0016984299bb33422f485>