



Mathématiques


Construis des groupes égaux de points en suivant les données, puis écris et calcule les multiplications correspondantes.

Si tu ne peux pas imprimer cette page, tu peux reproduire les schémas (de simples points de feutre épais font rapidement les jetons).


 3 groupes de 2
 $3 \times 2 = 6$


 ... groupes de 2
.....


 8 groupes de ...
.....

 9 groupes de ...
.....

 ... groupes de 5
.....

 7 groupes de ...
.....

 ... groupes de 6
.....

 ... groupes de 4
.....