

Programme du jeudi 28 mai

Dictée en ligne :

<https://bescherelle.com/ces-et-ses-accord-sujet-verbe>

CONJUGAISON

Vérifie le corrigé.

Une mère avait deux filles. Elle préférait l'aînée qu'elle favorisait constamment. Un matin, elle **envoya** la puînée au fleuve pour laver unealebasse. La petite **obéit** et **partit** aussitôt. Arrivée au bord du fleuve, elle **rencontra** un génie qui avait pris l'apparence d'une vieille femme.

- Peux-tu m'aider à remplir ma jarre ? lui **demanda** la vieille femme.

- Oui, dit l'enfant.

Dès que la jarre **fut** pleine, la petite fille **lava** sa calebasse et **voulu** rentrer chez elle. Mais la vieille femme la **retint** et lui **offrit** un œuf.

Mon oncle et ma tante m'(inviter) à passer les vacances d'hiver dans leur chalet près de Chamonix. Je n'avais jamais skié et j'étais très content d'y aller. Le premier matin, nous (prendre) un télésiège et nous (arriver) sur les pistes de bonne heure. Je me (lancer) avec confiance.

ils m'invitèrent - nous prîmes - nous arrivâmes - je me lançai.

③ Conjugue ces phrases au passé simple.

La sorcière **poursuivit**... (poursuivre) les enfants qui tentaient de s'échapper.

Nous **rencontrâmes** (rencontrer) de nouveaux amis.

Tu ...**voulus**... (vouloir) en finir rapidement.

Les entraîneurs nous **fournirent**... (fournir) de nouveaux équipements pour la compétition.

La graine ...**grandit**... (grandir) en une nuit.

Je ...**pris**... (prendre) le grimoire entre mes mains.

Vous ...**dîtes**... (dire) que vous n'aviez rien fait.

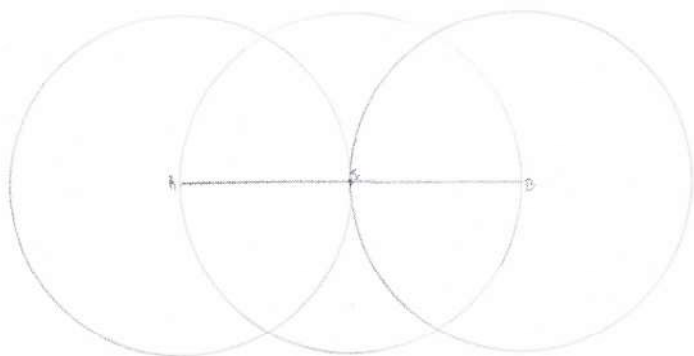
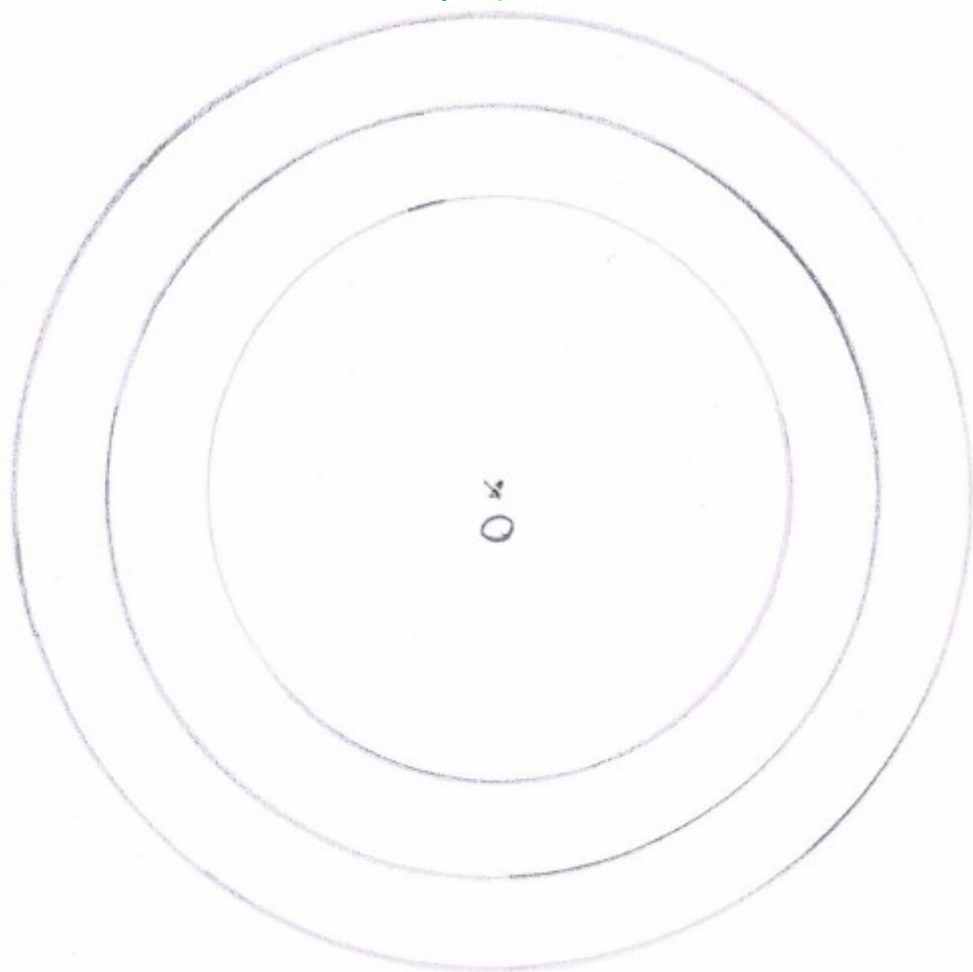
Ils **arrivèrent** à l'heure du rendez-vous.

Rends toi maintenant sur le site quizzinière et fais le test avec le code : **5KN4W4**

GEOMETRIE

Corrigé

Dans cet exercice, le piège est la troisième consigne. En effet, on te demande de tracer un cercle de diamètre 10cm et non pas de rayon . Il fallait donc diviser par 2 le diamètre pour connaître l'ouverture du compas, car le diamètre est le double du rayon !

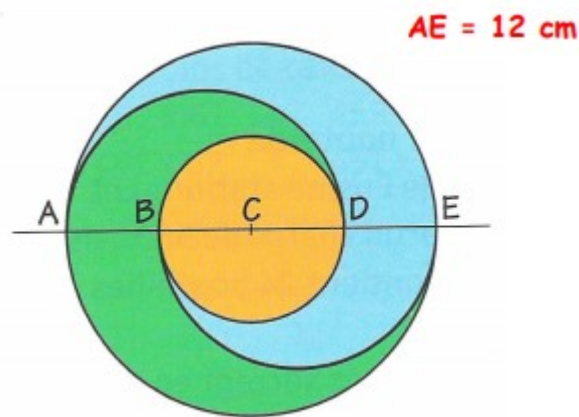


J'ai rétréci la figure pour ne pas prendre trop de place!

Puis, suis le programme de construction suivant et envoie-moi la photo du travail fini.

- a. Trace un cercle de centre P et de rayon 5 cm.
- b. Trace un rayon [PR].
- c. Trace un diamètre [ST].
- d. Repasse en rouge l'arc de cercle \widehat{SR} , en vert l'arc de cercle \widehat{RT} et en bleu un demi-cercle.

Reproduis cette figure, prends ton temps et applique toi !



LECTURE

Corrigé de la semaine dernière

1. Où se situe l'Amérique centrale ? L'Amérique centrale se situe entre l'Amérique du Nord et l'Amérique du Sud.
2. Donne le nom d'un pays d'Amérique centrale. Par exemple, le Costa Rica
3. Qu'est-ce qu'un isthme ? Un isthme est une étroite bande de terre entre deux mers qui réunit deux grandes étendues de terre.
4. Dans quelle mer se trouvent les Antilles ? Les Antilles se trouvent dans la mer des Caraïbes (et dans l'océan Atlantique à l'Est)
5. Qu'est-ce qu'un archipel ? Un archipel est un ensemble d'îles relativement proches les unes des autres. La proximité se double le plus souvent d'une origine géologique commune, en général volcanique
6. Donne le nom de deux îles des Antilles. Par exemple, la République Dominicaine ou Cuba.
7. Donne le nom d'un département français qui se trouve dans les Antilles. La Guadeloupe.
8. Trouve le numéro de ce département. Le numéro de ce département est le 971
9. Quel climat fait-il dans les Antilles ? Le climat est tropical.
10. A combien de km de la France se trouve ce département ? Ce département se trouve à 7 000 km.

Voici en lecture, le travail donné par M. Tuysuzian aux élèves qui vont à l'école.
Tu dois lire tout les textes et les remettre dans l'ordre pour retrouver le sens de l'histoire.

Une histoire explosée à reconstruire *Superman*

A. Alors, le barman se tourne vers le premier consommateur et lui dit :

B. Le barman, entendant la conversation, hoche la tête en faisant la moue.
Le second consommateur dit :
- C'est impossible !

C. C'est deux hommes, assis au bar, au sommet de l'Empire State Building.
L'un, légèrement éméché, se tourne vers l'autre et lui dit :

D. - Vous savez, j'ai découvert, la semaine dernière, que lorsqu'on saute du sommet de ce building, arrivé au niveau du dixième étage, le vent est si fort qu'il vous fait faire le tour de l'immeuble et vous fait entrer en douceur par une fenêtre.

E. Son voisin de bar n'en croit pas ses yeux, mais lui dit que ça doit être un hasard si ça a marché. L'autre rouvre la fenêtre et recommence. La même chose se reproduit.

F. Alors le deuxième consommateur décide d'essayer, convaincu. Il passe le dixième étage, neuvième, huitième... et s'écrase sur le trottoir...

G. Le premier client lui dit qu'il va prouver ce qu'il dit. Il ouvre la fenêtre, saute et au niveau du dixième étage, emporté par le vent, il fait le tour de l'immeuble, ralentit, entre par une fenêtre ouverte et remonte au bar.

H. - Tu es un vrai idiot lorsque tu as trop bu Superman !

Reconstruire l'histoire dans le bon ordre

1	2	3	4	5	6	7	8