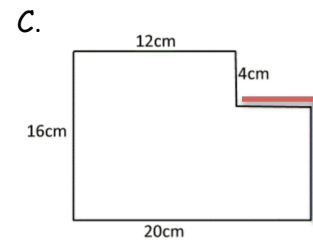
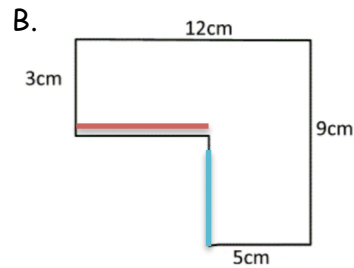
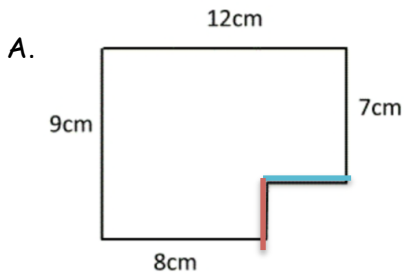




Corrigé

Mathématiques : les périmètres

Calcul de périmètres



Pour A

$$\text{---} = 12 - 8 = 4$$

$$\text{---} = 9 - 7 = 2$$

Le périmètre de la figure A :

$$12 + 7 + 4 + 2 + 8 + 9 = 42 \text{ cm}$$

Pour B

$$\text{---} = 9 - 3 = 6$$

$$\text{---} = 12 - 5 = 7$$

Le périmètre de la figure B :

$$12 + 9 + 5 + 6 + 7 + 3 = 42 \text{ cm}$$

Pour C

$$\text{---} = 20 - 12 = 8$$

$$\text{---} = 16 - 4 = 12$$

Le périmètre de la figure C :

$$12 + 4 + 8 + 12 + 20 + 16 = 72 \text{ cm}$$

Mathématiques : calcul réfléchi

$8 \times 10 = 80$

$10 \times 83 = 830$

$9 \times 100 = 900$

$100 \times 100 = 10\,000$

$66 \times 1000 = 66\,000$

$65 \times 10 = 650$

$10 \times 32 = 320$

$100 \times 71 = 7\,100$

$20 \times 100 = 2000$

$1000 \times 45 = 45\,000$

$30 \times 10 = 300$

$10 \times 505 = 5\,050$

$100 \times 57 = 5\,700$

$8 \times 1000 = 8000$

$10 \times 7000 = 70\,000$