



Pour les problèmes 1, 2, 3 et 4, complète les horloges avec les aiguilles manquantes, puis réponds à la question.

1 Dans la classe de Léo, la séance de mathématiques commence à 9 heures et se termine à 10 heures.

Combien de temps dure la séance de mathématiques ?





.....

.....

2 Dans l'école de Lou, l'atelier poésie a lieu le mardi après-midi. Il commence à 2 heures et se termine à 2 heures et demie.

Quelle est la durée de l'atelier poésie ?





.....

.....

3 Dans l'école d'Alex et de Lisa, la classe commence le matin à 9 heures. Elle se termine à 12 heures.

Combien de temps dure la classe le matin ?

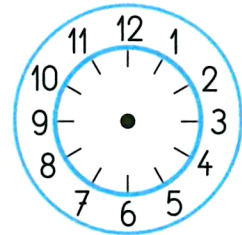
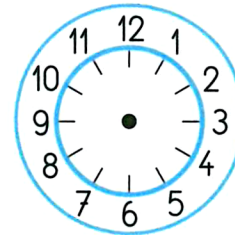


.....

.....

4 Dans l'école d'Aïcha, la classe commence l'après-midi à 1 heure et demie et se termine à 4 heures.

Combien de temps dure la classe l'après-midi ?




.....

.....

Pour le problème 5, complète la deuxième horloge et réponds à la question.

5 Dans l'école de Lisa et d'Alex, le repas est servi à midi et dure une heure.

À quelle heure se termine-t-il ?



.....